

ВСЕРОССИЙСКАЯ ПРОВЕРОЧНАЯ РАБОТА**ФИЗИКА, 11 КЛАСС****Пояснения к образцу всероссийской проверочной работы**

При ознакомлении с образцом проверочной работы следует иметь в виду, что задания, включённые в образец, не отражают всех умений и вопросов содержания, которые будут проверяться в рамках всероссийской проверочной работы. Полный перечень элементов содержания и умений, которые могут проверяться в работе, приведён в кодификаторе элементов содержания и требований к уровню подготовки выпускников для разработки всероссийской проверочной работы по физике. Назначение образца проверочной работы заключается в том, чтобы дать представление о структуре всероссийской проверочной работы, количестве и форме заданий, об уровне их сложности.

ОБРАЗЕЦ ВСЕРОССИЙСКОЙ ПРОВЕРОЧНОЙ РАБОТЫ ПО ФИЗИКЕ

11 КЛАСС

Инструкция по выполнению работы

Проверочная работа включает в себя 18 заданий. На выполнение работы по физике отводится 1 час 30 минут (90 минут).

Оформляйте ответы в тексте работы согласно инструкциям к заданиям. В случае записи неверного ответа зачеркните его и запишите рядом новый.

При выполнении работы разрешается использовать калькулятор.

При выполнении заданий Вы можете использовать черновик. Записи в черновике проверяться и оцениваться не будут.

Советуем выполнять задания в том порядке, в котором они даны. Для экономии времени пропускайте задание, которое не удаётся выполнить сразу, и переходите к следующему. Если после выполнения всей работы у Вас останется время, Вы сможете вернуться к пропущенным заданиям.

Баллы, полученные Вами за выполненные задания, суммируются. Постарайтесь выполнить как можно больше заданий и набрать наибольшее количество баллов.

Желаем успеха!

Ниже приведены справочные данные, которые могут понадобиться Вам при выполнении работы.

Десятичные приставки

Наименование	Обозначение	Множитель	Наименование	Обозначение	Множитель
гига	Г	10^9	санти	с	10^{-2}
мега	М	10^6	милли	м	10^{-3}
кило	к	10^3	микро	мк	10^{-6}
гекто	г	10^2	нано	н	10^{-9}
деци	д	10^{-1}	пико	п	10^{-12}

Константы

ускорение свободного падения на Земле

$$g = 10 \text{ м/с}^2$$

гравитационная постоянная

$$G = 6,7 \cdot 10^{-11} \text{ Н} \cdot \text{м}^2 / \text{кг}^2$$

универсальная газовая постоянная

$$R = 8,31 \text{ Дж}/(\text{моль} \cdot \text{К})$$

скорость света в вакууме

$$c = 3 \cdot 10^8 \text{ м/с}$$

коэффициент пропорциональности в законе Кулона

$$k = 9 \cdot 10^9 \text{ Н} \cdot \text{м}^2 / \text{Кл}^2$$

модуль заряда электрона

$$e = 1,6 \cdot 10^{-19} \text{ Кл}$$

(элементарный электрический заряд)

постоянная Планка

$$h = 6,6 \cdot 10^{-34} \text{ Дж} \cdot \text{с}$$

1 Прочитайте перечень понятий, с которыми Вы встречались в курсе физики:

ёмкость, паскаль, литр, энергия, герц, плотность

Разделите эти понятия на две группы по выбранному Вами признаку. Запишите в таблицу название каждой группы и понятия, входящие в эту группу.

Название группы понятий	Понятия

2 Выберите два верных утверждения о физических величинах или понятиях. Запишите в ответ их номера.


1. Упругими называются деформации, которые исчезают после того, как действие внешних сил прекращается.
2. При равноускоренном движении тело за каждый час проходит одинаковые расстояния.
3. Кинетическая энергия тела зависит от высоты, на которой находится тело над поверхностью Земли.
4. Силой Ампера называют силу, с которой электрическое поле действует на заряженные частицы.
5. Фотоны не обладают массой покоя и движутся в вакууме со скоростью, равной скорости света в вакууме.

Ответ:

--	--

3 При вытекании воздуха из надутого воздушного шарика он приходит в движение (см. рисунок).

Как называется такой вид движения в физике?

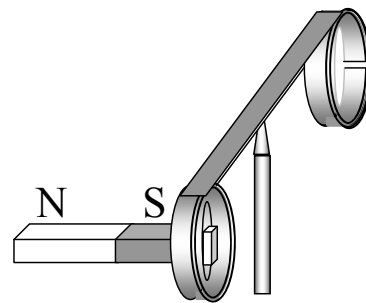


Ответ: _____.

4

Прочитайте текст и вставьте на место пропусков словосочетания из приведённого списка.

На рисунке изображён момент демонстрационного эксперимента по проверке правила Ленца, когда все предметы неподвижны. Южный полюс магнита находится внутри сплошного металлического кольца, но не касается его. Коромысло с металлическими кольцами может свободно вращаться вокруг вертикальной опоры. Если начать выдвигать магнит из сплошного кольца, то кольцо будет _____. Если магнит начать _____ с разрезом, то кольцо будет _____.

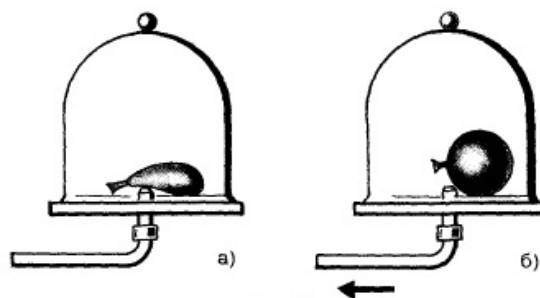


Список словосочетаний

- остаться неподвижным
- перемещаться вслед за магнитом
- отталкиваться от магнита
- совершать колебания
- выдвигать из кольца
- вдвигать в кольцо

5

Под колокол воздушного насоса поместили слегка надутый и завязанный шарик. По мере выкачивания воздуха из-под колокола шарик раздувается (см. рисунок). Как изменяются при этом объём воздуха в шарике, его давление и плотность? Для каждой величины определите характер изменения и поставьте в таблице знак «V» в нужной клетке таблицы.



	Характер изменения величины		
	увеличивается	уменьшается	не изменяется
Объём воздуха в шарике			
Давление воздуха в шарике			
Плотность воздуха в шарике			

6

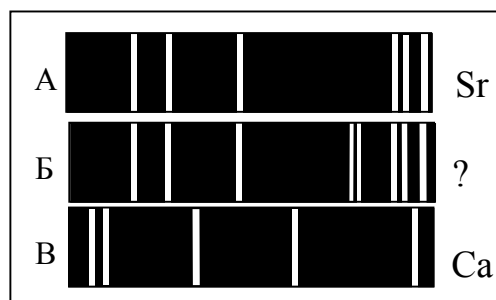
Связанная система элементарных частиц содержит 9 электронов, 10 нейтронов и 8 протонов. Используя фрагмент Периодической системы элементов Д.И. Менделеева, определите, ионом или нейтральным атомом какого элемента является эта связанная система.

7 N 14,0067 Азот	8 O 15,9994 Кислород	9 F 18,9984 Фтор	10 Ne 20,183 Неон
15 P 30,9738 Фосфор	16 S 32,064 Сера	17 Cl 35,453 Хлор	18 Ar 39,948 Аргон
23 V 50,942 Ванадий	24 Cr 51,996 Хром	25 Mn 54,938 Марганец	26 Fe 55,847 Железо

Ответ: _____.

7

На рисунках А, Б, В приведены спектры излучения атомарных паров стронция, неизвестного образца и кальция. Содержится ли в образце стронций и кальций? Ответ поясните.

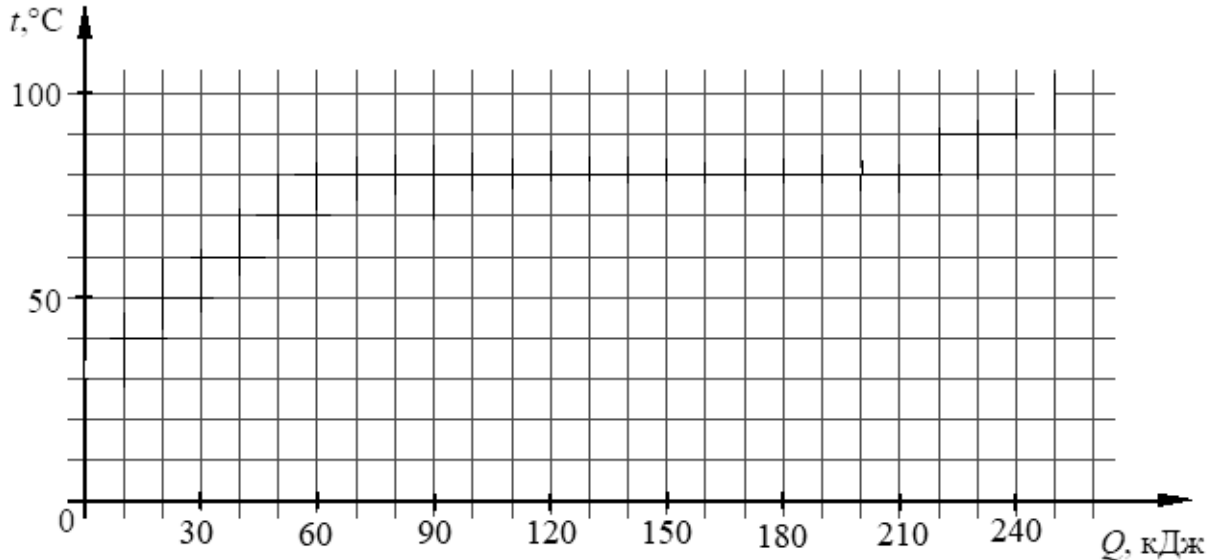


Ответ: _____

 _____.

8

Воду, первоначальная температура которой равна $25\text{ }^{\circ}\text{C}$, нагревают на плитке неизменной мощности. Для нагревания воды до температуры кипения потребовалась энергия, равная 100 кДж . Далее на кипение воды было затрачено 40 кДж . Изобразите описанные процессы на графике зависимости температуры воды от полученной энергии.



9

Летом Андрей живёт в дачном доме, в котором электропроводка выполнена медными проводами сечением $1,5\text{ мм}^2$. Линия для розеток оснащена автоматическим выключателем с установкой срабатывания 16 А (цепь размыкается при превышении данного значения тока). Напряжение электрической сети 220 В .

В таблице представлены электрические приборы, используемые в доме, и потребляемая ими мощность.

<i>Электрические приборы</i>	<i>Потребляемая мощность, Вт</i>
Телевизор	500
Электрический обогреватель	2000
СВЧ-печь	800
Электрический чайник	2000
Электрический утюг	1500


В доме работает электрический обогреватель. Какой(-ие) из указанных приборов можно включить в сеть дополнительно к обогревателю? Запишите решение и ответ.

Решение: _____

Ответ: _____

10

С помощью барометра проводились измерения атмосферного давления. Верхняя шкала барометра проградуирована в мм рт. ст., а нижняя шкала – в гПа (см. рисунок). Погрешность измерений давления равна цене деления шкалы барометра.



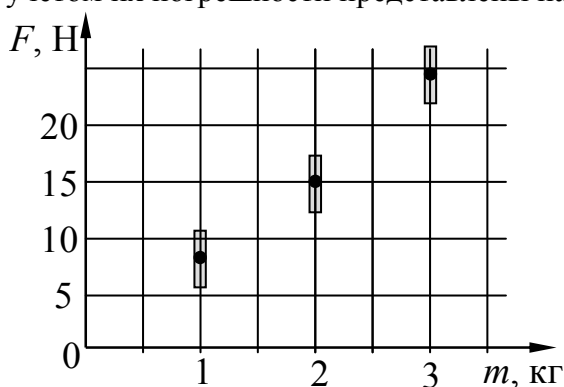
Запишите в ответ показания барометра в мм рт. ст. с учётом погрешности измерений.



Ответ: _____ мм рт. ст.

11

Космонавты исследовали зависимость силы тяжести от массы тела на посещённой ими планете. Погрешность измерения силы тяжести равна 2,5 Н, а массы тела – 50 г. Результаты измерений с учётом их погрешности представлены на рисунке.



Каково приблизительно ускорение свободного падения на этой планете?



Ответ: _____ м/с².

12

В катушку индуктивности вносят магнит. При этом в её обмотке возникает индукционный ток. Вам необходимо исследовать, зависит ли направление индукционного тока, возникающего в катушке, от направления вектора магнитной индукции магнита. Имеется следующее оборудование (см. рисунок):

- катушка индуктивности;
- амперметр (на шкале которого «0» посередине);
- магнит;
- соединительные провода.



В ответе:

1. Опишите экспериментальную установку.
2. Опишите порядок действий при проведении исследования.

Ответ: _____

13

Установите соответствие между техническими устройствами и физическими явлениями, лежащими в основе принципа их действия.

К каждой позиции первого столбца подберите соответствующую позицию из второго столбца.

ТЕХНИЧЕСКИЕ УСТРОЙСТВА	ФИЗИЧЕСКИЕ ЯВЛЕНИЯ
А. двигатель постоянного тока	1) взаимодействие постоянных магнитов
Б. лампа накаливания	2) действие магнитного поля на проводник с током
	3) тепловое действие тока
	4) химическое действие тока

Запишите в таблицу выбранные цифры под соответствующими буквами.

Ответ:

А	Б

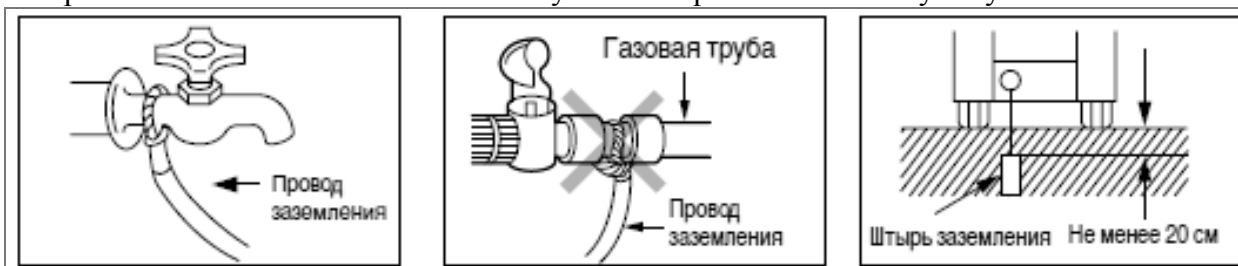
Прочитайте фрагмент инструкции к стиральной машине и выполните задания 14 и 15.

Прежде чем включать машину в розетку, подсоедините провод заземления к водопроводной трубе, если она сделана из металла.

Если вода подаётся по трубам из синтетического материала, такого как винил, заземление не может быть произведено к водопроводной трубе. Необходимо использовать другой способ заземления.

Внимание: Не подсоединяйте провод заземления к газовой трубе, громоотводу, телефонным линиям и т.п.

Для максимальной безопасности подсоедините провод заземления к медной пластине или штырю заземления и закопайте пластину или штырь в землю на глубину не менее 20 см.



14

В инструкции требуется при установке стиральной машины подсоединить провод заземления. Для чего делают заземление?

Ответ: _____

 _____.

15

Почему в инструкции запрещается делать заземление через водопроводную трубу из синтетического материала, такого как винил?

Ответ: _____

 _____.

Прочитайте текст и выполните задания 16–18.**Рентгеновские лучи**

Рентгеновское излучение – это электромагнитные волны, энергия фотонов которых лежит на шкале электромагнитных волн между ультрафиолетовым излучением и гамма-излучением.

Рентгеновские лучи возникают всегда, когда движущиеся с высокой скоростью электроны тормозятся материалом анода (например, в газоразрядной трубке низкого давления). Часть энергии, не рассеивающаяся в форме тепла, превращается в энергию электромагнитных волн (рентгеновские лучи).

Есть два типа рентгеновского излучения: тормозное и характеристическое. Тормозное рентгеновское излучение не является монохроматическим, оно характеризуется разнообразием длин волн, которое может быть представлено сплошным (непрерывным) спектром.

Характеристическое рентгеновское излучение имеет не сплошной, а линейчатый спектр. Этот тип излучения возникает, когда быстрый электрон, достигая анода, выбивает электроны из внутренних электронных оболочек атомов анода. Пустые места в оболочках занимают другими электронами атома. При этом испускается рентгеновское излучение с характерным для материала анода спектром энергий.

Монохроматическое рентгеновское излучение, длины волн которого сопоставимы с размерами атомов, широко используется для исследования структуры веществ. В основе данного метода лежит явление дифракции рентгеновских лучей на трёхмерной кристаллической решётке. Дифракция рентгеновских лучей на монокристаллах была открыта в 1912 г. М. Лауэ. Направив узкий пучок рентгеновских лучей на неподвижный кристалл, он наблюдал на помещённой за кристаллом пластинке дифракционную картину, которая состояла из большого количества расположенных в определённом порядке пятен.

Дифракционная картина, получаемая от поликристаллического материала (например, металлов), представляет собой набор чётко обозначенных колец. От аморфных материалов (или жидкостей) получают дифракционную картину с размытыми кольцами.

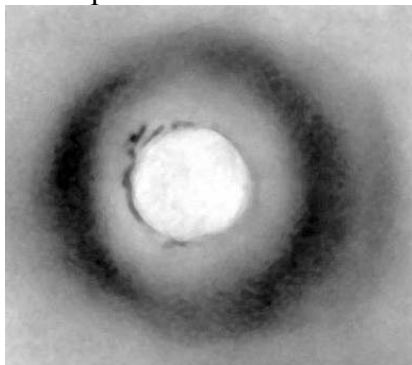
16

Какой из типов рентгеновского излучения имеет линейчатый спектр?


Ответ: _____.

17

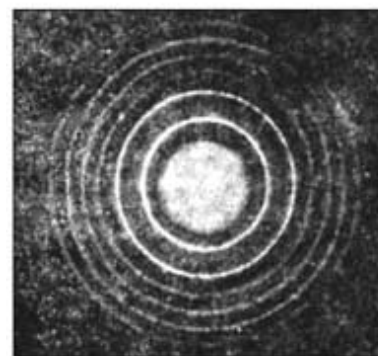
На рисунках представлены дифракционные картины, полученные на монокристалле, металлической фольге и воде. Какая из картин соответствует дифракции на монокристалле?



(1)



(2)



(3)

Ответ: _____.

18

Можно ли исследовать атомную структуру монокристалла, используя инфракрасные лучи? Ответ поясните.

Ответ: _____

Ответы к заданиям

№ задания	Ответ	Баллы за задание
2	15	2 балла, если верно указаны два элемента ответа; 1 балл, если допущена одна ошибка или верно указан только один элемент ответа
3	реактивное движение (или реактивное)	1 балл
4	перемещаться вслед за магнитом вдвигать в кольцо / выдвигать из кольца оставаться неподвижным	2 балла, если верно вставлены все словосочетания; 1 балл, если допущена одна ошибка
5	Объём воздуха в шарике увеличивается. Давление воздуха в шарике уменьшается. Плотность воздуха в шарике уменьшается	2 балла, если верно указаны все элементы ответа; 1 балл, если допущена одна ошибка
6	ион кислорода	1 балл
10	(744 ± 1) мм рт. ст.	1 балл
11	любое значение в интервале от 7,3 до 8,8 м/с ²	1 балл
13	23	2 балла, если верно указаны два элемента ответа; 1 балл, если допущена одна ошибка или верно указан только один элемент ответа
16	характеристическое рентгеновское излучение	1 балл
17	2	1 балл

Критерии оценивания заданий с развёрнутым ответом

1

Возможный ответ		
Название группы понятий	Понятия	
Физические величины	Плотность, энергия, электроёмкость	
Единицы физических величин	Генри, паскаль, литр	
Указания к оцениванию		Баллы
Верно заполнены все клетки таблицы		2
Верно указаны названия групп понятий, но допущено не более двух ошибок при распределении понятий по группам. ИЛИ Приведено верное распределение по группам, но допущена ошибка в названии одной из групп		1
Другие случаи, не удовлетворяющие критериям на 2 и 1 балл		0
<i>Максимальный балл</i>		2

7

Возможный ответ	
В спектре образца присутствуют спектральные линии атомарного стронция, но отсутствуют спектральные линии кальция. Следовательно, в неизвестном образце содержится стронций, но не содержится кальций	
Указания к оцениванию	Баллы
Дан верный ответ, и приведено пояснение о наличии или об отсутствии в спектре образца спектральных линий известных газов	1
Другие случаи, не удовлетворяющие критерию на 1 балл	0
<i>Максимальный балл</i>	
	1

8

Возможный ответ	
Указания к оцениванию	Баллы
Построен верный график, включающий участок нагревания, кипения и верное указание температуры кипения	2
Построен график, но в нём допущена ошибка для одного из участков	1
Другие случаи, не удовлетворяющие критериям на 2 и 1 балл	0
<i>Максимальный балл</i>	
	2

9

Возможный ответ	
Максимальная мощность, на которую рассчитана проводка, $P = IU = 16\ 220 = 3520$ Вт. Суммарная мощность всех включённых в сеть электроприборов не должна превышать 3,5 кВт. Электрический обогреватель имеет мощность 2000 Вт. Значит одновременно с ним можно включить в сеть либо только утюг, либо только телевизор, либо только СВЧ-печь. Либо можно одновременно включить телевизор и СВЧ-печь (их суммарная потребляемая мощность 1300 Вт)	
Указания к оцениванию	Баллы
Приведены верный ответ и его обоснование (решение)	2
Приведён верный ответ, но в обосновании (решении) допущена вычислительная ошибка. ИЛИ Обоснование (решение) неполное	1
Другие случаи, не удовлетворяющие критериям на 2 и 1 балл	0
<i>Максимальный балл</i>	
	2

12

Возможный ответ	
1. Используется установка, изображённая на рисунке. Катушка подсоединяется к амперметру. Магнит вносят в катушку и наблюдают появление индукционного тока.	
2. Направление вектора магнитной индукции магнита изменяют, внося магнит в катушку сначала северным, а затем южным полюсом. При этом скорость движения магнита в двух опытах примерно одинакова.	
3. О направлении индукционного тока судят по направлению отклонения стрелки амперметра	
Указания к оцениванию	Баллы
Описана экспериментальная установка. Указан порядок проведения опыта и ход измерения направления тока	2
Описана экспериментальная установка, но допущена ошибка либо в описании порядка проведения опыта, либо в ходе проведения измерений	1
Другие случаи, не удовлетворяющие критериям на 2 и 1 балл	0
<i>Максимальный балл</i>	
	2

14

Возможный ответ	
При неполадках в электросети машины ее корпус может оказаться под напряжением. Если корпус машины заземлен, то при прикосновении к нему через тело человека не будет течь ток, поскольку его сопротивление много больше сопротивления провода заземления	
Указания к оцениванию	Баллы
Представлено верное объяснение, не содержащее ошибок	1
Объяснение не представлено. ИЛИ В объяснении допущена ошибка	0
<i>Максимальный балл</i>	
	1

15

Возможный ответ	
Труба из пластика (винила) не проводит электрический ток, а значит, не может использоваться для заземления	
Указания к оцениванию	Баллы
Представлено верное объяснение, не содержащее ошибок	1
Объяснение не представлено. ИЛИ В объяснении допущена ошибка	0
<i>Максимальный балл</i>	
	1

18

Возможный ответ	
1. Нельзя. 2. Длины волн инфракрасного излучения много больше размеров атомов, поэтому ИК лучи будут огибать атомы («не замечая» их)	
Указания к оцениванию	Баллы
Представлен правильный ответ на вопрос, и приведено достаточное обоснование, не содержащее ошибок	2
Представлен правильный ответ на поставленный вопрос, но его обоснование не является достаточным. ИЛИ Представлены корректные рассуждения, приводящие к правильному ответу, но ответ явно не сформулирован	1
Другие случаи, не удовлетворяющие критериям на 2 и 1 балл	0
<i>Максимальный балл</i>	
	2